



Nombre:

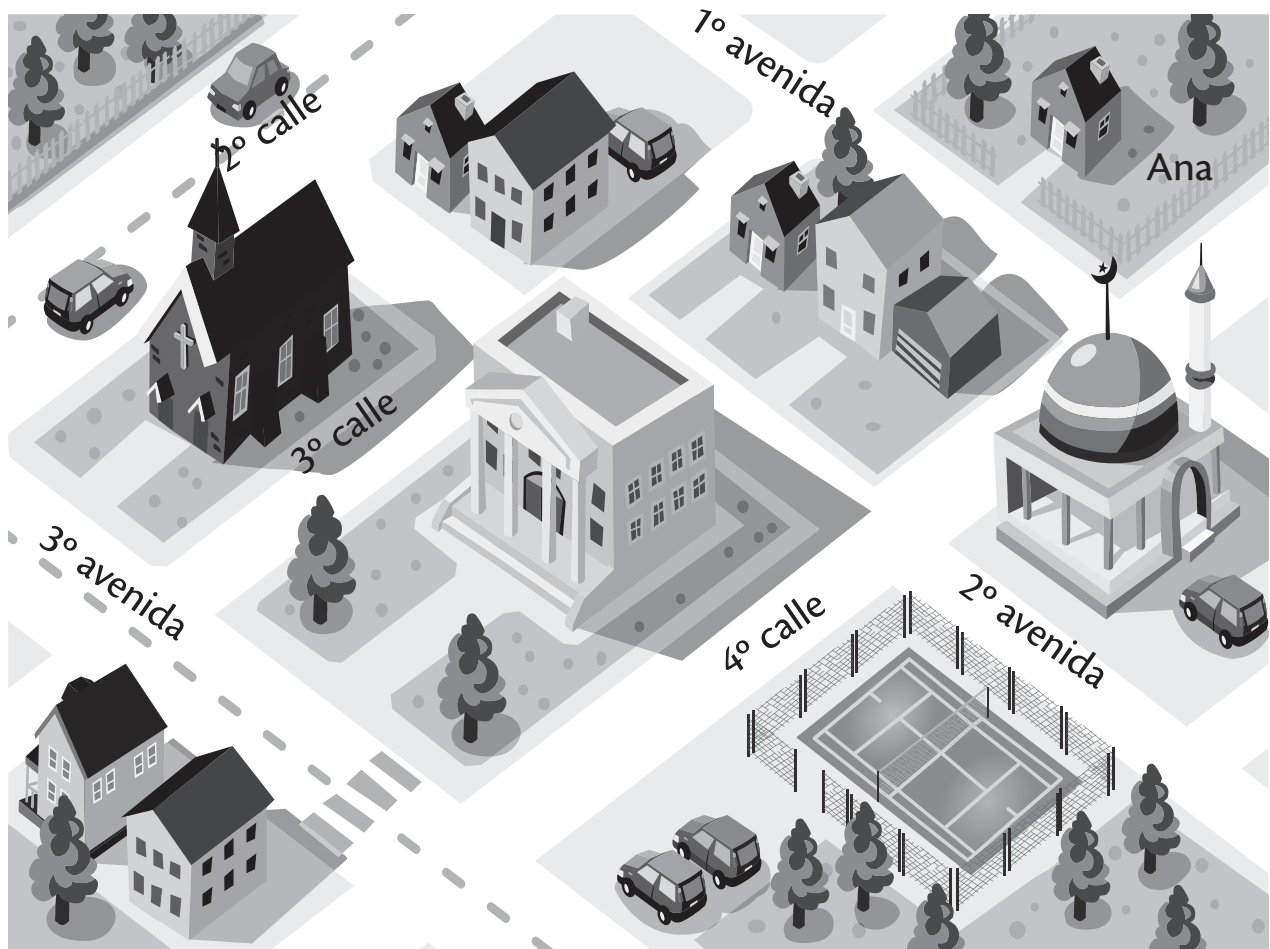
Sección:

Fecha:

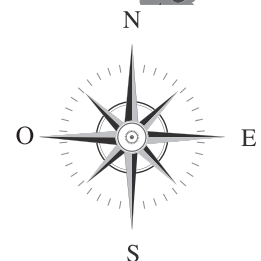
Taxonomía / Inteligencias múltiples
analizar / visual - cinestesia

Plano de la comunidad

1. Observa el plano de la ciudad. Las comunidades están organizadas por calles y avenidas. Esto facilita ubicarse en el espacio.



Pedro






Nombre: _____


Sección: _____

Fecha: _____

Taxonomía / Inteligencias múltiples
analizar / visual - cinestesia

2. Completa las oraciones.

a. Ana vive en la  ubicada en la ____ avenida. Entre la ____ y ____ calle. Para visitar la iglesia, debe caminar media cuadra al y cuabras al este.

b. Pedro vive en la  casa ubicada en la ____ avenida. Debe caminar una cuadra al _____ para llegar al campo de tenis.

c. El papá de Ana trabaja en el . Para visitar el  debe caminar en dirección _____.

d. La abuelita de Pedro vive en . ¿Cuántas cuabras debe caminar para visitar a su nieto? _____

3. Dibuja al centro del cuadro tu casa. Dibuja alrededor de tu casa los lugares que la rodean.