



Nombre:

Sección:

Fecha:

Taxonomía / Inteligencias múltiples
aplicar / lógico - matemático

Comparación de cantidades

Mayor, menor o igual



mayor que







menor que







igual



1. Cuenta y compara. Utiliza los signos $<$, $>$ o $=$.



0.  



a.  



b.  

c.  

d.  

e.  

f.  

g.  



Nombre: _____

Sección: _____

Fecha: _____

Taxonomía / Inteligencias múltiples
aplicar / lógico - matemático

2. Utiliza los símbolos mayor que, menor que o igual para comparar cantidades.

- | | | | | | |
|----|-----------------|----|-----------------|----|-----------------|
| a. | 35 _____ 35 | b. | 56 _____ 52 | c. | 31 _____ 31 |
| d. | 24 _____ 42 | e. | 21 _____ 5 | f. | 89 _____ 95 |
| g. | 56 _____ 56 | h. | 47 _____ 28 | i. | 23 _____ 19 |
| j. | 26 _____ 47 | k. | 29 _____ 27 | l. | 91 _____ 89 |

3. Responde.

a. En una canasta hay 15 naranjas y 13 melones. ¿Qué hay más?

b. En un aula hay 14 niñas y 14 niños. ¿Qué hay más, niñas o niños?