

Evaluación módulo 2

Ciencias Sociales y Formación Ciudadana

Sociedades 1 - Módulo 2: Sociedad familiar

Nombre de la institución educativa: _____

Nombre del estudiante: _____

Fecha: _____ Sección: _____

Evaluación

1. ¿Cómo se le llama a la acción de examinar un objeto con atención?

2. Escribe 2 aparatos especiales para observar lo que nos rodea.

3. Utiliza la información del cuadro para completar la tabla.

Un investigador observó que en una comunidad hay 8 iglesias, 2 hospitales, 3 centros de salud, 4 farmacias y 3 escuelas.

Escribo lo que observo	
Cantidad de centros de salud	
Cantidad de escuelas	
Cantidad de farmacias	
Cantidad de hospitales	
Cantidad de iglesias	

4. Subraya el instrumento que se utiliza para observar lo que está muy lejos.




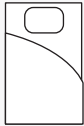



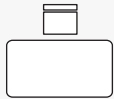


a. microscopio **b.** estetoscopio **c.** telescopio

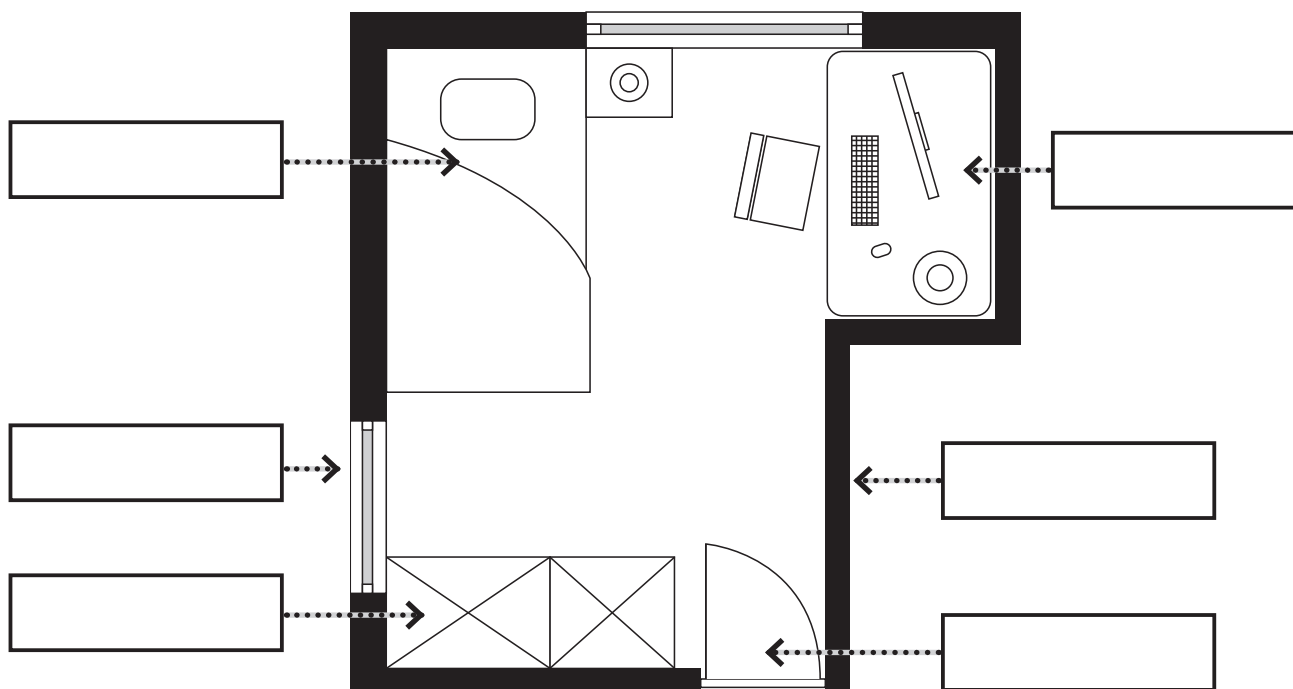
5. ¿Por qué crees que es importante la observación en una investigación?

6. ¿Cómo se llama al lugar donde vive una familia o una persona?

7. Escribe de qué nos protege una casa.

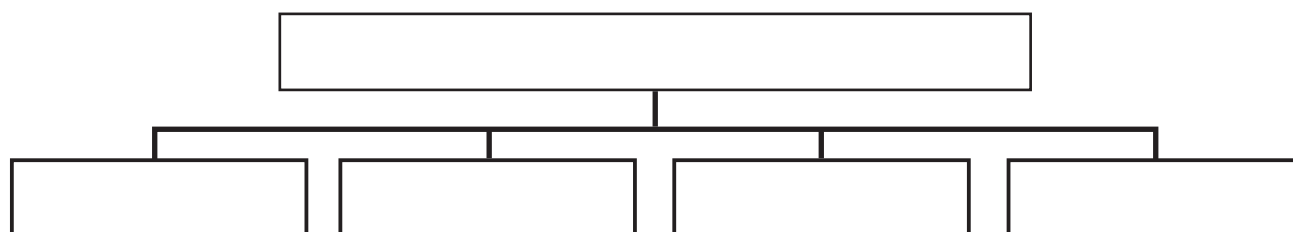
8. Utiliza la siguiente clave para identificar las partes del dormitorio. Escribe sus nombres sobre las líneas.

 pared	 bañera	 inodoro	 cama
 ventana	 estufa	 ropero	 escritorio
 puerta	 silla		



9. Utiliza la información del cuadro para completar el organizador gráfico.

- comedor
- casa
- dormitorio
- sala
- cocina



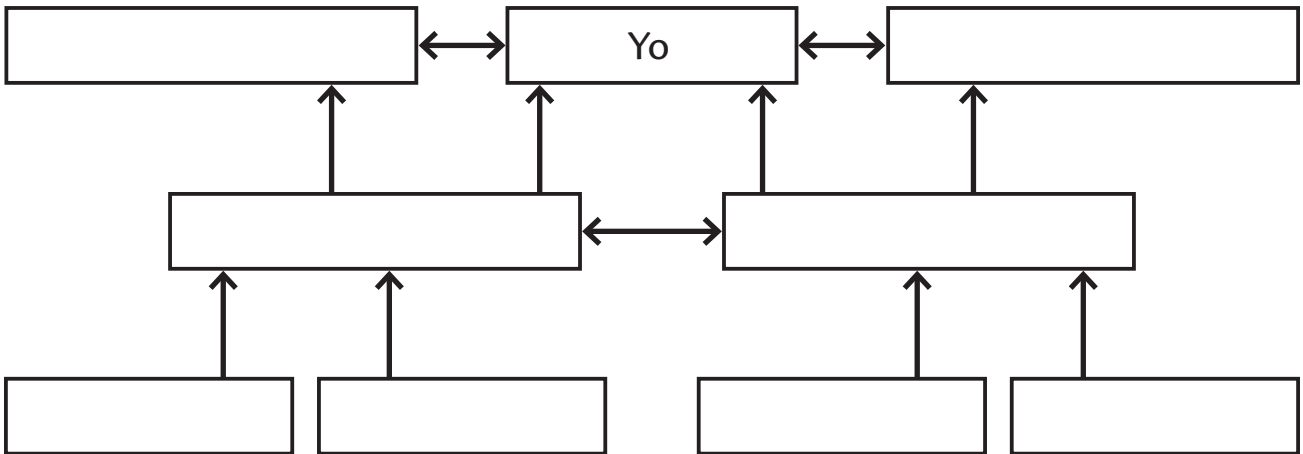
10. ¿Cómo se le llama a una masa de agua salada?
 a. lago b. río c. mar d. isla
11. Subraya el otro nombre con el que se conoce al Oeste.
 a. Occidente b. Nororiente c. Oriente d. Suroccidente
12. ¿Por qué son importantes los puntos cardinales?

13. ¿Cómo se le llama a una persona digna de confianza?

14. Escribe dos tipos de familia que puedes encontrar en la actualidad.

15. Escribe la clasificación de los hábitos.

16. Completa el siguiente organizador gráfico acerca de la familia.



17. Une con una línea las relaciones de parentesco.

Los hijos de mis tíos son...

Yo soy nieto de...

Yo soy sobrino de...

Yo soy hermano de...

mis hermanos

mis tíos

mis primos

mis abuelos

18. Subraya la palabra que no es de cortesía.

- a. disculpe b. gracias c. dame eso d. por favor

19. Subraya una actividad de la familia dentro de la casa.

- a. visitar museos b. cocinar c. salir de viaje

20. ¿Por qué crees que son importantes las celebraciones familiares?

21. ¿Cómo se llama la acción de cumplir con las reglas?

22. Escribe 2 características que diferencian a las personas exitosas de los demás.

23. Une con una línea los deberes de los miembros de la familia.

Los hijos e hijas menores

cuidan y dan lo que necesitan a los hijos para que crezcan sanos

Los hijos e hijas mayores

cuidan a sus hermanos menores

Los padres

protegen a sus hijos

recogen los juguetes, la ropa sucia y ordenar la habitación

respetan y obedecen a los padres

24. Subraya el que no es un derecho de los niños y las niñas.

- a. a la vida b. a desobedecer c. a la educación

25. ¿Cuál crees que es la norma de seguridad más importante que debes seguir en tu casa?
