




Solucionario

Evaluación Módulo 4

Respuestas

1. porcentaje
2. c. razón matemática
3. 3 decimales, 4.104
4. a. 5.44 b. 10.062 c. 0.624 d. 37.31
5. b. 18/15
6. Sí, utilizará únicamente 25 trozos de madera.
7. No, el punto decimal se coloca según la cantidad de decimales que hay en toda la operación, la respuesta correcta es 39.500.
8. b. longitud
9. c. peso
10. RA. gramo, kilogramo, libra, onza, quintal y tonelada
11. a. 1 kilómetro = 1,000 metros b. 36 pulgadas = 1 yarda
c. 100 centímetros = 1 metro d. 1 kilogramo = 1,000 gramos
e. 1 tonelada = 2,000 libras f. litro = 10 decilitros
12. c. Q25.00
13. 1 a 3 días. La fragancia puede perder su aroma.
14. La de 2 litros por Q25.00, porque gastarían en 5 envases Q125.00.
15. minutos y segundos
16. a. 5,000 kg b. 75 libras c. 1 tonelada d. 1/2 tonelada
17. grados centígrados o Celsius y grados Fahrenheit
- 18.



19. a. 40° C



calor

b. 90° F



calor

c. 50° C



calor

d. 50° F



frío

20. b. 80 días

21. d. 18 winales

22. 37 minutos

23. verdadero, sirve para construir gráficas.

24. de barras, de círculo y de líneas

25. RA. Gráfica de barras o de círculo

26.

Color	Registro	Frecuencia
rojo		4
azul	++++	7
verde	+++	5
violeta		4
amarillo		3
rosado		3

27. a. 11:00 b. 06:00 c. 9:00 y 10:00

28. d. rojo

29. c. azul

30. RA. Porque es un dato que representa el porcentaje acumulado en el ciclo escolar. Sirve para señalar las materias con alto rendimiento académico y las que necesito mejorar. Sirve para calcular si se llega a la calificación mínima de aprendizaje o de promoción de grado.