



Nombre:

Sección:


Fecha:

Taxonomía / Inteligencias múltiples  
recordar / lógico – matemático


## Adiciones con fichas

Cálculo de adición en forma horizontal


1. Coloca un objeto sobre cada círculo. Escribe cuántos hay de cada uno y anota. Junta los grupos y escribe el resultado.

a. 

+  =

b. 

+  =

c. 

+  =



Nombre:

Sección:

Fecha:


Taxonomía / Inteligencias múltiples  
recordar / lógico – matemático



$$\square + \square = \square$$



$$\square + \square = \square$$



$$\square + \square = \square$$

2. Realiza las adiciones.

a.  $3 + 2 = \square$

b.  $2 + 5 = \square$

c.  $7 + 1 = \square$

d.  $2 + 6 = \square$

e.  $4 + 5 = \square$

f.  $1 + 8 = \square$

g.  $2 + 7 = \square$

h.  $3 + 6 = \square$

i.  $5 + 4 = \square$

j.  $6 + 3 = \square$

k.  $1 + 5 = \square$

l.  $0 + 4 = \square$