



Nombre:

Sección:

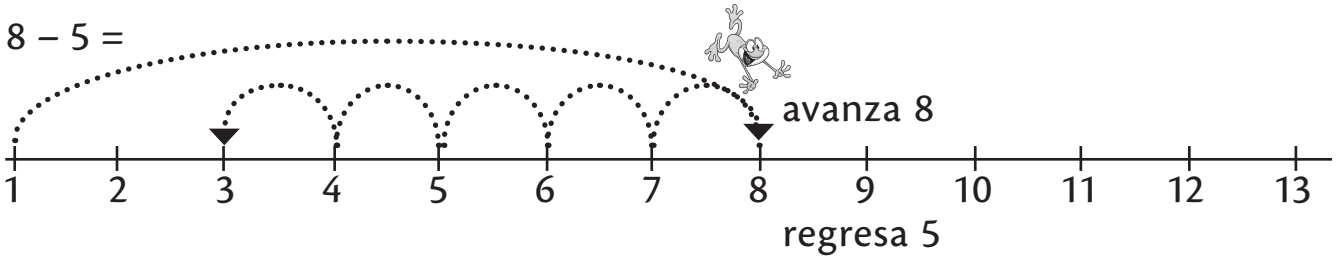
Fecha:

Taxonomía / Inteligencias múltiples
comprender / visual - lógico - matemático

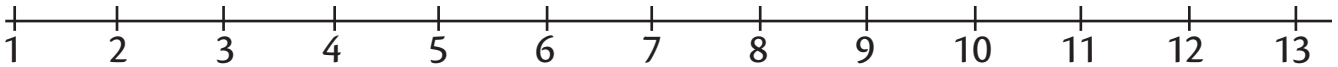
Sustracciones

1. Resuelve las sustracciones utilizando la recta numérica.

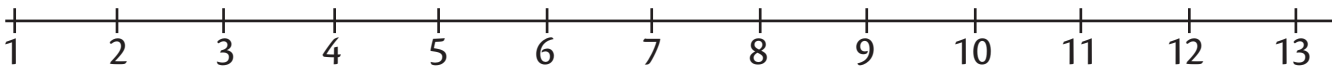
a. $8 - 5 =$



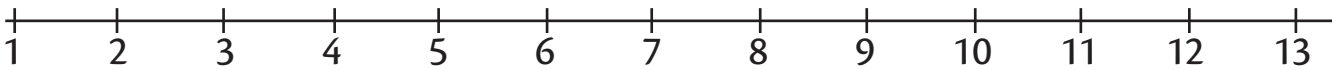
b. $9 - 3 =$



c. $9 - 4 =$



c. $12 - 6 =$



2. Resuelve las sustracciones.

a.	4	5		b.	5	4		c.	6	8		d.	1	6	
	-	1	0		-	1	0		-	8			-	6	
e.	4	5		f.	1	7		g.	5	9		h.	9	4	
	-	5			-	7			-	9			-	1	0