



Nombre:

Sección:

Fecha:


Taxonomía / Inteligencias múltiples  
aplicar / visual - lógico matemático

## ¿Agrego o quito?

### Conteo

1. Dibuja las figuras que hacen falta para completar la cantidad indicada en el cuadro.

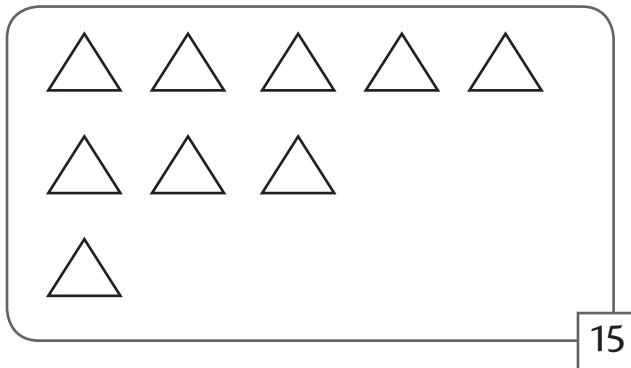
a.



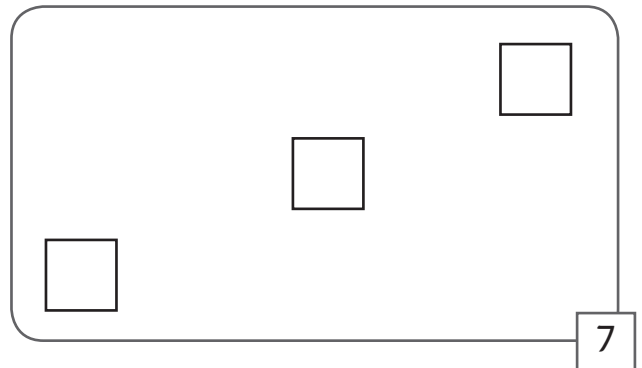
b.



c.



d.



2. Colorea la cantidad de elementos que se indica en el cuadro. Coloca una X a las figuras que sobran.

