



Nombre:

Sección:

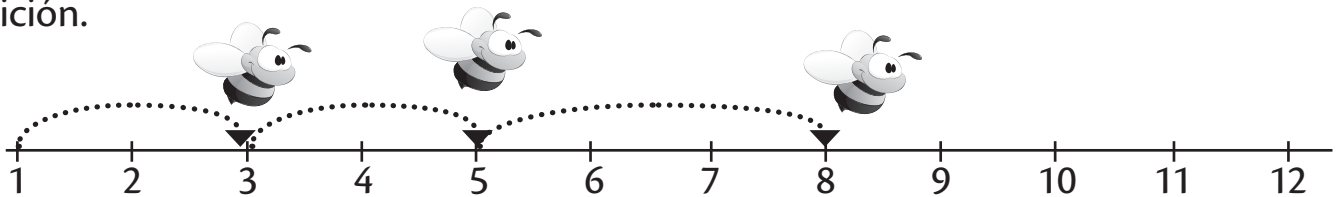
Fecha:

Taxonomía / Inteligencias múltiples  
aplicar / visual

## Adición con tres sumandos


1. Cuenta los espacios que salta la abeja. Escribe el número que falta y resuelve la adición.

a.



$$3 + 2 + \square = \square$$

b.




$$\square + 2 + 5 = \square$$

2. Dibuja el recorrido de la abeja en la recta numérica.



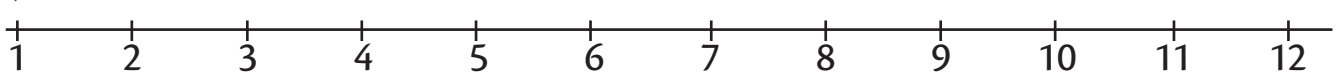
a.



$$5 + 3 + 2 = \square$$



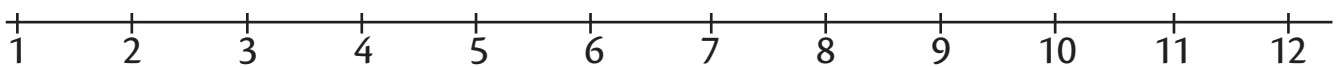
b.



$$6 + 1 + 4 = \square$$



c.



$$4 + 4 + 4 = \square$$