



Nombre:

Sección:

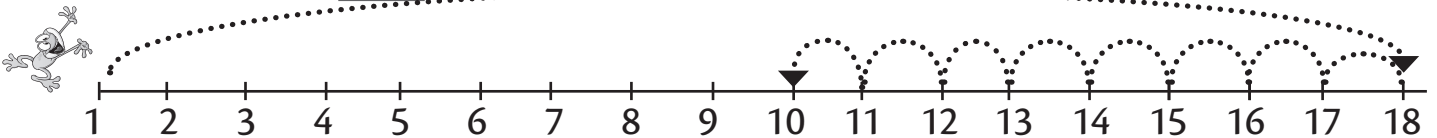
Fecha:

Taxonomía / Inteligencias múltiples  
aplicar / visual

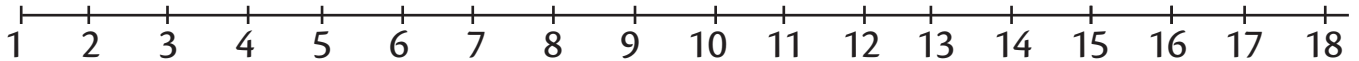
## Sustracción con tres cantidades

Utiliza la recta numérica para calcular las sustracciones. Guíate con el ejemplo.

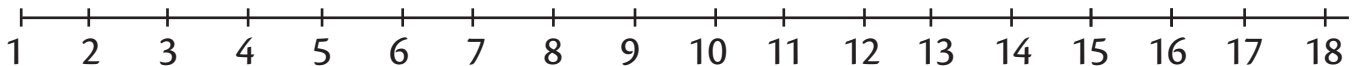
0.  $18 - 5 - 3 =$



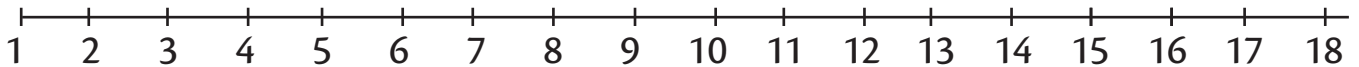
a.  $15 - 3 - 4 =$



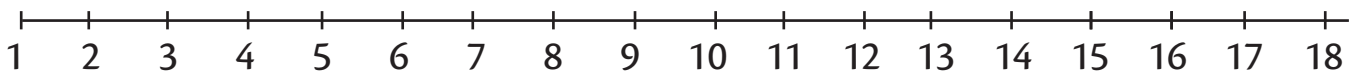
b.  $12 - 3 - 2 =$



c.  $17 - 2 - 8 =$



d.  $18 - 8 - 3 =$



e.  $12 - 4 - 5 =$

