



Nombre:

Sección:

Fecha:

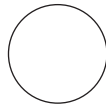

Taxonomía / Inteligencias múltiples
comprender / visual

Números ordinales

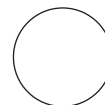
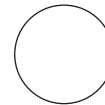
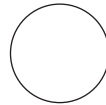
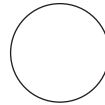
1. Escribe el número ordinal que corresponde a cada pelota.




1.º



4.º



9.º



2. Observa.

enero						
lunes	martes	miércoles	jueves	viernes	sábado	domingo
	1	2	3	4	5	6 día de reyes
7	8	9	10	11	12	13
14	15	16	17 inicio de clases	18	19	20
21	22 visita al museo	23	24	25	26	27
28	29	30	31			

a. ¿Cuántos días tiene una semana?

b. ¿Qué día es el tercero de la semana?



Nombre:

Sección:

Fecha:

Taxonomía / Inteligencias múltiples
comprender / visual

c. ¿Qué fecha es el primer sábado?

d. ¿Cuál es el nombre del sexto día de la semana?

e. ¿Cuántos miércoles tiene el mes?

f. ¿Qué fecha es el tercer sábado?

g. ¿Qué fecha es el quinto martes?

h. ¿En qué día cae el vigésimo quinto día?

i. ¿Qué actividad inicia el décimo séptimo día?

j. ¿Qué se celebra el sexto día?

k. ¿En qué fecha caen todos los domingos?

l. ¿Cuál es el último día del mes?
