



Nombre: _____

Sección: _____

Fecha: _____


Taxonomía / Inteligencias múltiples
comprender / lógico – matemático

Vamos a trazar y contar

Ángulos en polígonos


Utiliza regla y lápiz para trazar el polígono indicado. Ayúdate con el arreglo de puntos. Escribe cuántos ángulos y vértices tiene.

1. Cuatro lados




ángulos _____ vértices _____

2. Tres lados




ángulos _____ vértices _____

3. Seis lados




ángulos _____ vértices _____

4. Siete lados




ángulos _____ vértices _____

5. Cinco lados



ángulos _____ vértices _____

6. Ocho lados



ángulos _____ vértices _____