



Nombre: _____

Sección: _____

Fecha: _____

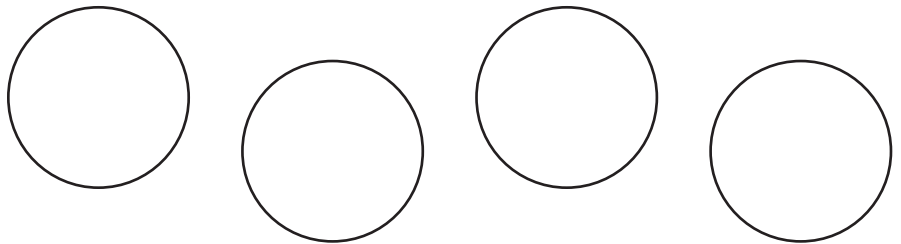
Taxonomía / Inteligencias múltiples
aplicar / visual - lógico - matemático

División inexacta

1. Resuelve las divisiones. Dibuja en el espacio los grupos que se forman en cada división.

a. 23 paletas en grupos de 4.

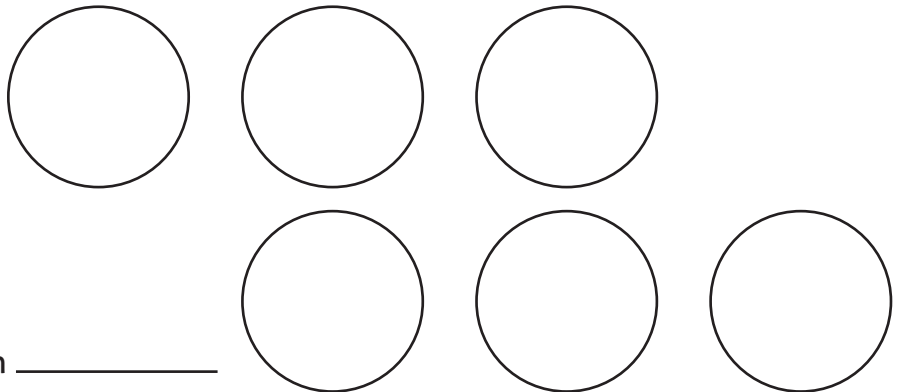
$$4 \overline{) 23}$$



sobran _____

b. 17 pelotas en grupos de 6.

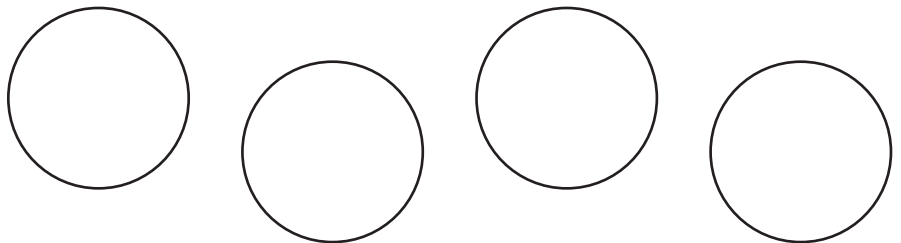
$$6 \overline{) 17}$$



sobran _____

c. 25 pelotas en grupos de 4.

$$4 \overline{) 25}$$



sobran _____



Nombre:

Sección:

Fecha:

Taxonomía / Inteligencias múltiples
aplicar / visual - lógico - matemático

2. Resuelve las divisiones.

	a.	4	2	3									b.	9	5	8										c.	5	3	5
	d.	9	2	4									e.	6	2	8										f.	2	1	3
	g.	3	2	6									h.	4	3	1										i.	5	2	7
	j.	8	3	6									k.	9	2	5										l.	2	1	8
	m.	4	2	7									n.	5	4	2										ñ.	6	3	8