



Nombre:

Sección:

Fecha:


Taxonomía / Inteligencias múltiples
analizar / lógico - matemático

Multiplicaciones agrupando

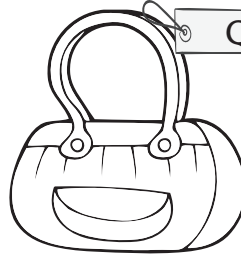
Observa las imágenes. Lee los problemas y calcula cuánto gastó cada persona en sus compras.




Q40



Q10




Q15



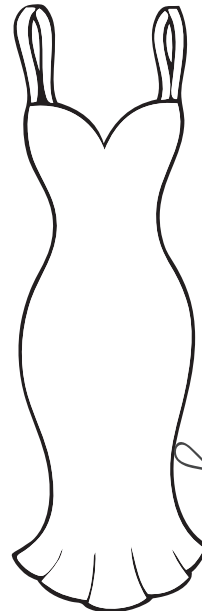
Q12



Q29



Q105



Q219



Q525

- Sofía salió a comprar sombreros para el acto del Día de la Madre. Compró 16 sombreros. ¿Cuánto debe pagar?

operación

respuesta: _____



Nombre: _____

Sección: _____

Fecha: _____

Taxonomía / Inteligencias múltiples
analizar / lógico - matemático

2. En una tienda venden playeras. Jorge compró 8 para el equipo de fútbol sala. ¿Cuánto debe pagar?

operación

respuesta: _____

3. Si compro 3 vestidos y 5 bufandas. ¿Cuánto debo cancelar en caja?

operación

respuesta: _____

4. Un día de invierno la familia López decidió comprar 8 bufandas de colores. ¿Cuánto gastó?

operación

respuesta: _____

5. Carolina compró para su cumpleaños 1 bolsa, 2 camisetas, 1 chumpa y 2 vestidos. ¿Cuánto gastó?

operación

respuesta: _____