



Nombre:

Sección:

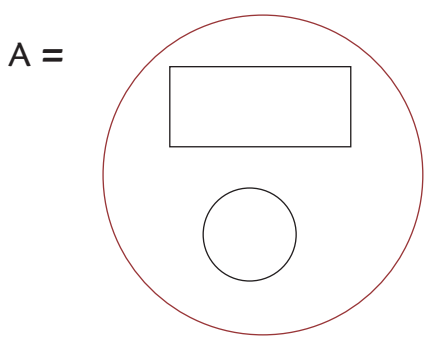
Fecha:

Taxonomía / Inteligencias múltiples
comprender / lógico matemático

Cardinalidad

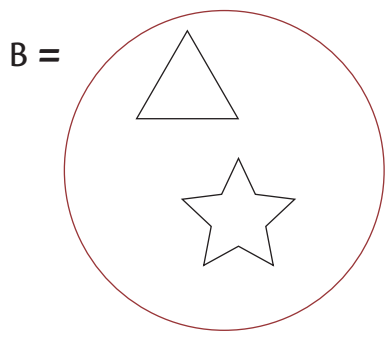
Elementos en un conjunto

1. Forma el conjunto universal utilizando los siguientes subconjuntos. Escribe la cardinalidad de cada conjunto.

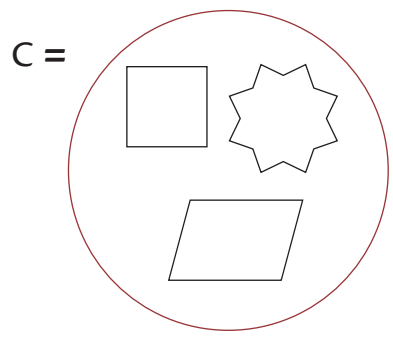


$n(A) =$

$T =$



$n(B) =$



$n(C) =$

$n() =$

2. Escribe la cardinalidad de los siguientes conjuntos.

a. $A = \{ \text{Conjunto de niños de tu clase} \}$

$n() =$

b. $R = \{ \text{Conjunto de niñas de tu clase} \}$

$n() =$

c. $B = \{ \text{Conjunto de miembros de tu familia} \}$

$n() =$

d. $F = \{ \text{Conjunto de nombre de los dedos de una mano} \}$

$n() =$