



Nombre: _____

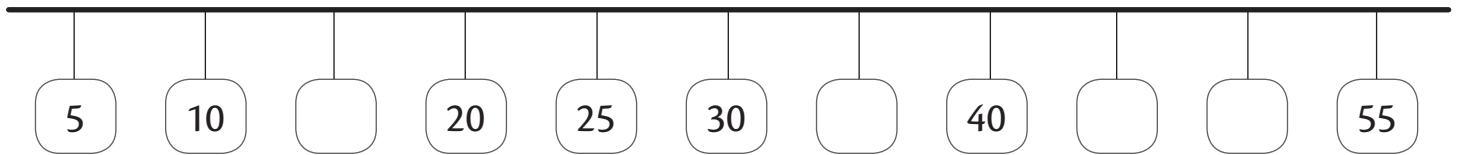
Sección: _____

Fecha: _____

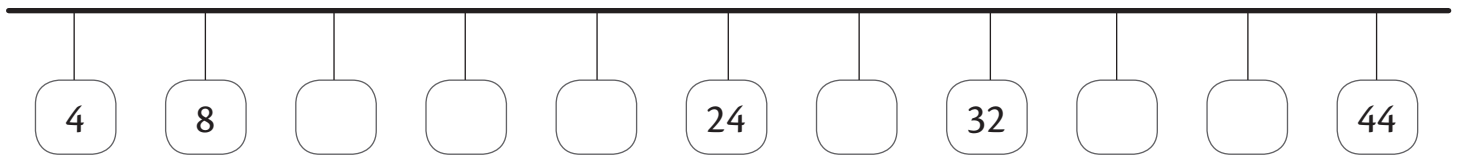
Taxonomía / Inteligencias múltiples
aplicar / lógico matemático

Máximo común divisor

1. Divide la recta en segmentos de 5.



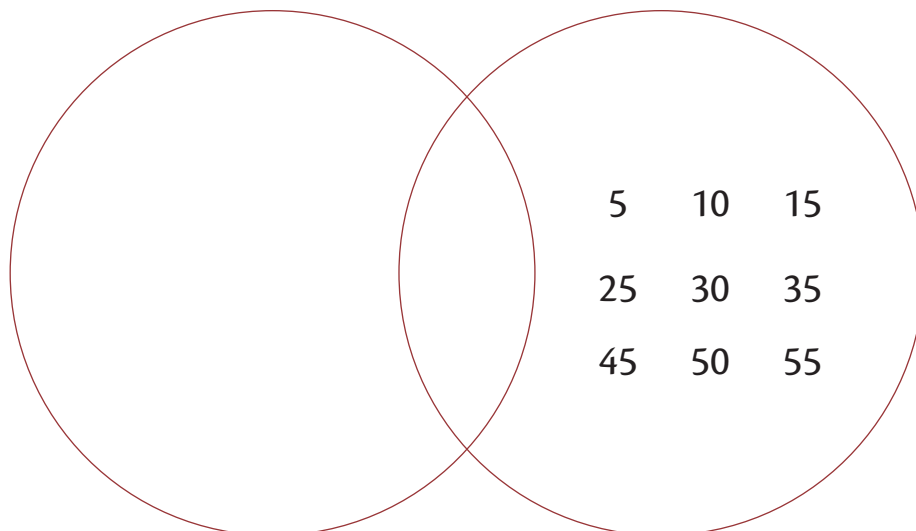
2. Divide la recta en segmentos de 4.



a. divisores de 4: _____

b. divisores de 5: _____

3. Completa los conjuntos con la intersección de divisores de 4 y 5.





Nombre:

Sección:

Fecha:

Taxonomía / Inteligencias múltiples
aplicar / lógico matemático

4. Responde:

¿Cuál es el máximo común divisor entre 4 y 5?

5. Encuentra el máximo común divisor de:

a. 2 y 6

b. 5 y 8

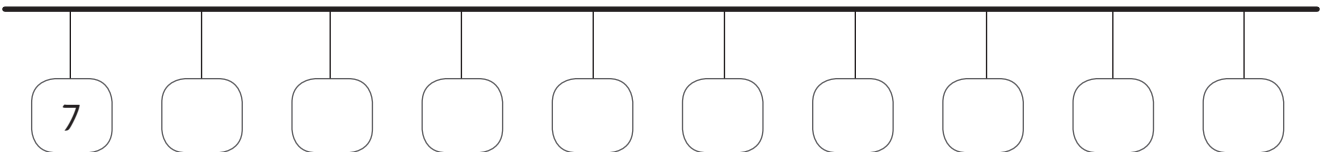
c. 3 y 9

d. 4 y 6

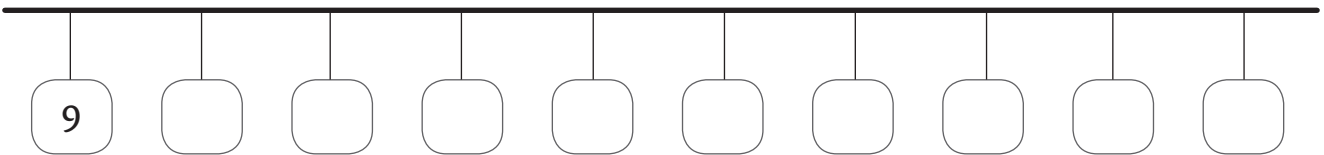
e. 9 y 7

4. Divide cada recta numérica.

a. Segmentos de 7.



b. Segmentos de 9.



c. Completa el conjunto de intersección con las divisiones de 7 y 9.

