



Nombre: _____

Sección: _____

Fecha: _____

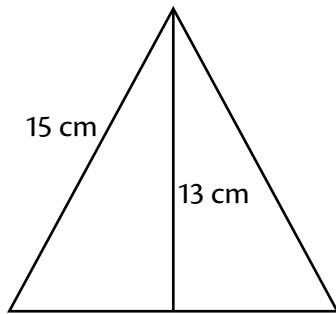
Taxonomía / Inteligencias múltiples
recordar / lógico – matemático

Muy fácil determinar el perímetro y área de un triángulo

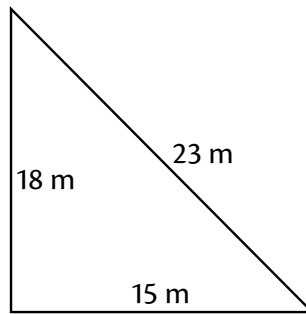
Perímetro y área del triángulo

Calcula el perímetro y área de cada triángulo. Toma en cuenta que debes deducir medidas en algunos casos.

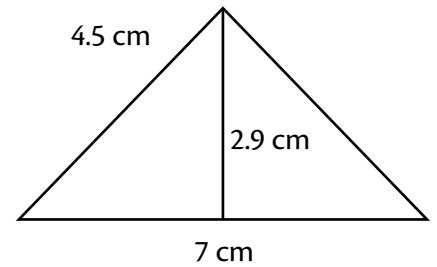
a.



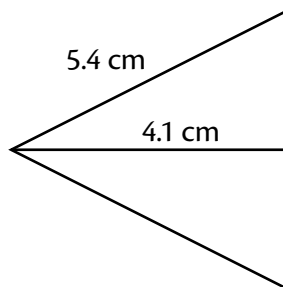
b.



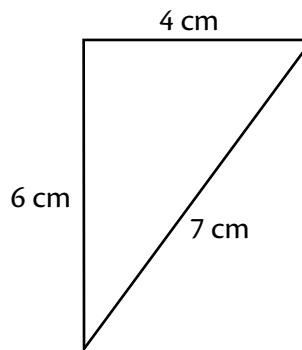
c.



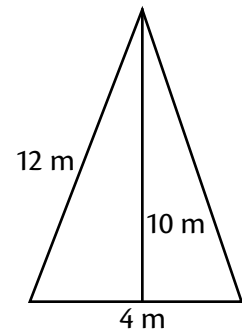
d.



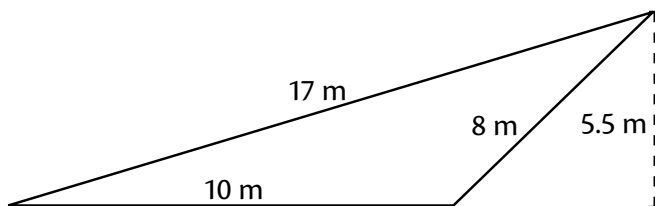
e.



f.



g.



g.

