



Nombre: \_\_\_\_\_

Sección: \_\_\_\_\_

Fecha: \_\_\_\_\_

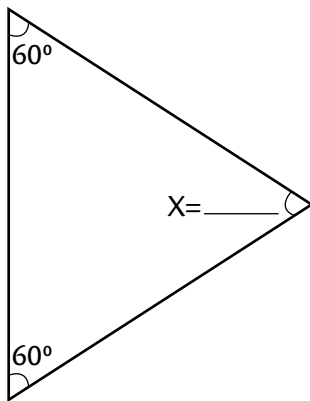
Taxonomía / Inteligencias múltiples  
comprender / lógico – matemático

## ¿Cuál es la medida de este ángulo?

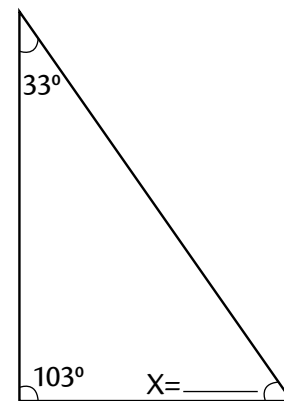
Ángulos internos en un triángulo

Determina la medida del ángulo que falta.

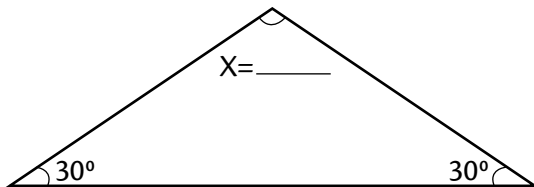
1.



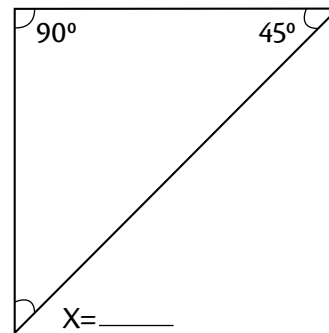
2.



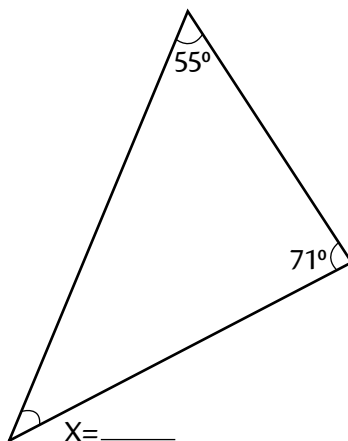
3.



4.



5.



6.

