



Nombre: _____

Sección: _____

Fecha: _____

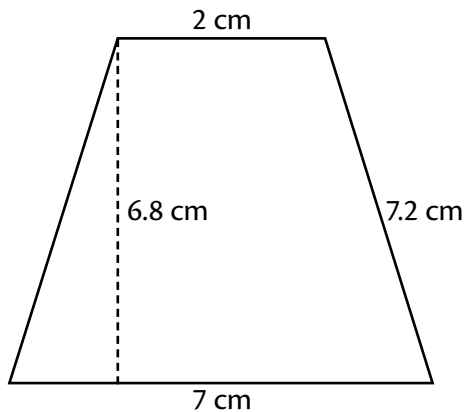
Taxonomía / Inteligencias múltiples
comprender / lógico – matemático

Todo es asunto de recordar

Perímetro y área del trapecio y rombo

Calcula el perímetro y área de acuerdo a la información dada en cada figura. Toma en cuenta que algunas medidas debes deducirlas.

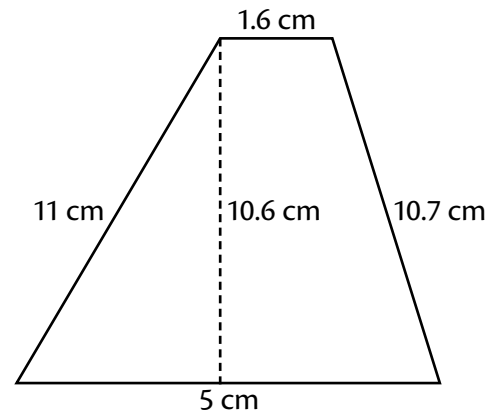
1.



Perímetro: _____

Área: _____

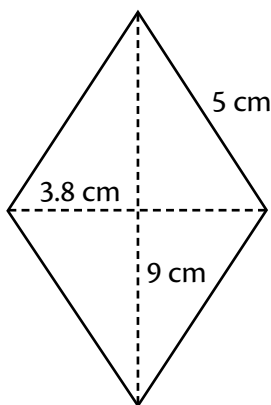
2.



Perímetro: _____

Área: _____

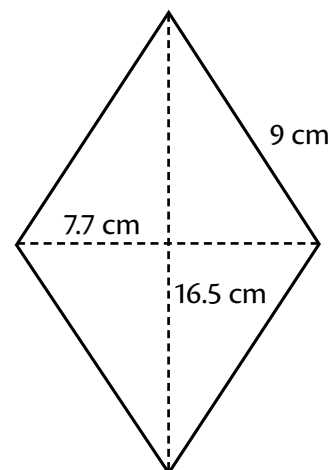
3.



Perímetro: _____

Área: _____

4.



Perímetro: _____

Área: _____