



Nombre:

Sección:

Fecha:

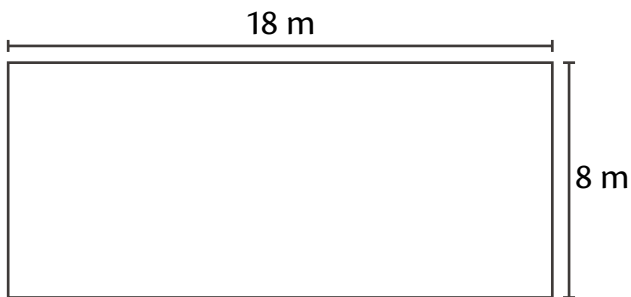
Taxonomía / Inteligencias múltiples  
aplicar / lógico-matemático

## Aprendo cuando aplico


Perímetro y área del cuadrado y rectángulo

Resuelve cada problema. Muestra todo tu procedimiento.

- Una persona tiene un terreno como el que se muestra en la figura. ¿Cuántos metros de alambre necesitaría para rodearlo una vez? ¿Cuántos metros cuadrados mide la superficie o área?



- Una de las paredes del cuarto de Débora tiene la forma y medida que se muestra a continuación. Quiere pintarla y rodear la orilla con una cinta. ¿Cuántos metros cuadrados pintará? ¿Cuánto medirá la cinta?





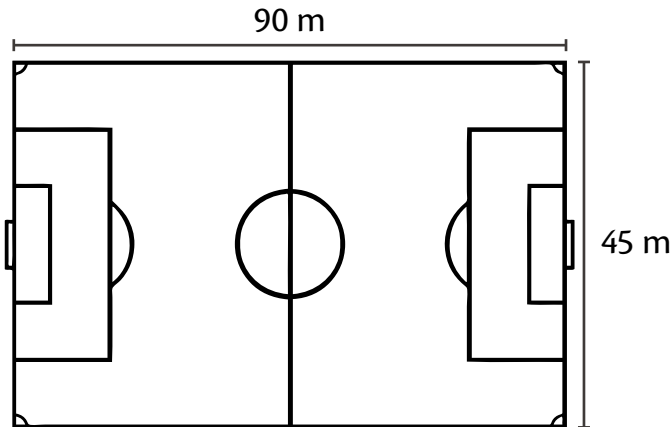
Nombre:

Sección:

Fecha:

Taxonomía / Inteligencias múltiples  
aplicar / lógico-matemático

3. Lo que ves a continuación representa un campo de futbol. Si una persona trota alrededor de él una vez, ¿qué distancia recorre? ¿Cuántos mide la superficie del campo?



4. Un área de cultivo de caña de azúcar tiene la forma y dimensiones que observas a continuación. Si una persona recorre ese terreno en un vehículo, ¿qué distancia cubre? ¿Cuántos kilómetros cuadrados tiene el terreno?

