



Nombre: _____

Sección: _____

Fecha: _____

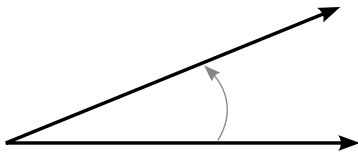
Taxonomía / Inteligencias múltiples
comprender / lógico – matemático

Medir ángulos que no son rectángulos

Ángulos

Escribe la medida de cada ángulo. Indica si es acutángulo, obtusángulo, llano o cóncavo. Observa la flecha que te indica la abertura que debes medir.

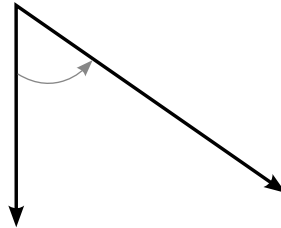
1.



Medida: _____

Tipo de ángulo: _____

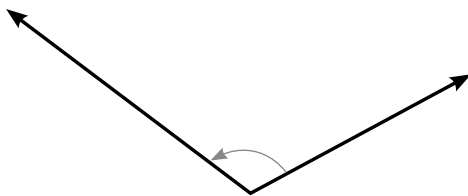
2.



Medida: _____

Tipo de ángulo: _____

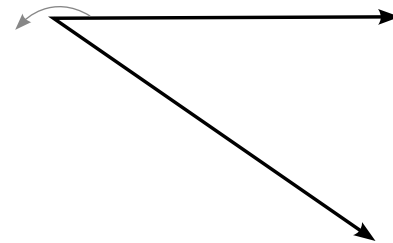
3.



Medida: _____

Tipo de ángulo: _____

4.



Medida: _____

Tipo de ángulo: _____

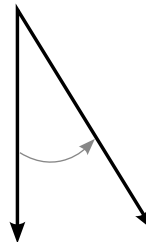
5.



Medida: _____

Tipo de ángulo: _____

6.



Medida: _____

Tipo de ángulo: _____

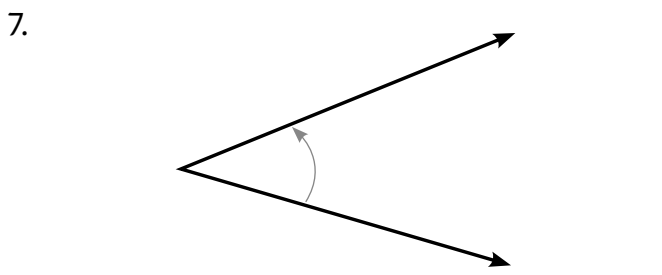


Nombre: _____

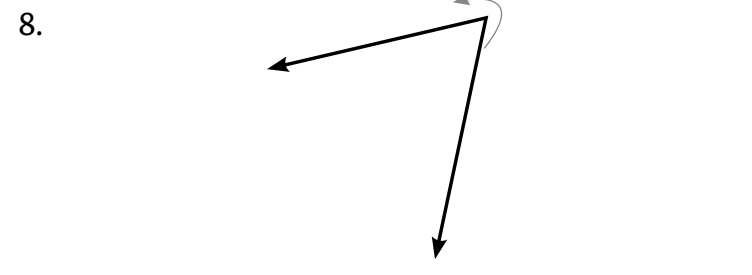
Sección: _____

Fecha: _____

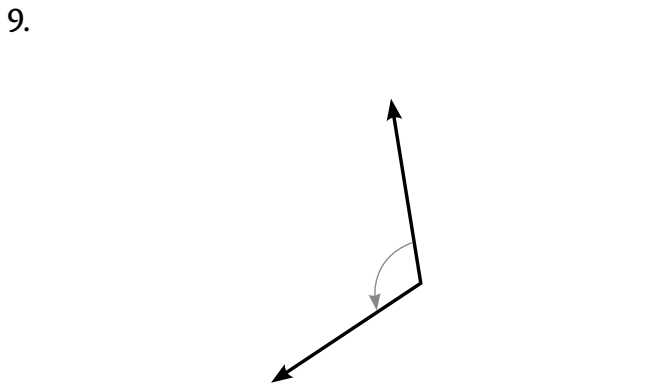
Taxonomía / Inteligencias múltiples
comprender / lógico – matemático



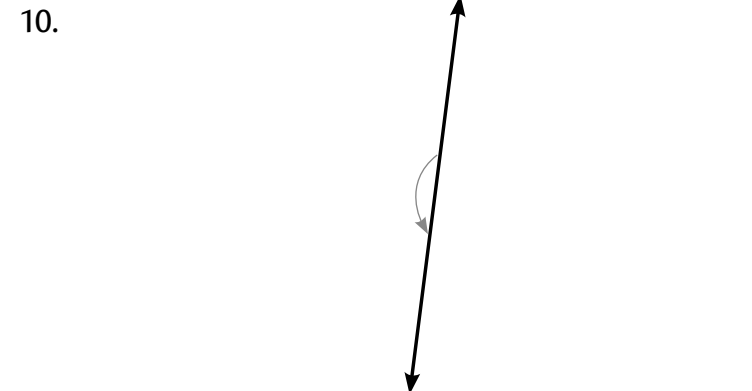
Medida: _____
Tipo de ángulo: _____



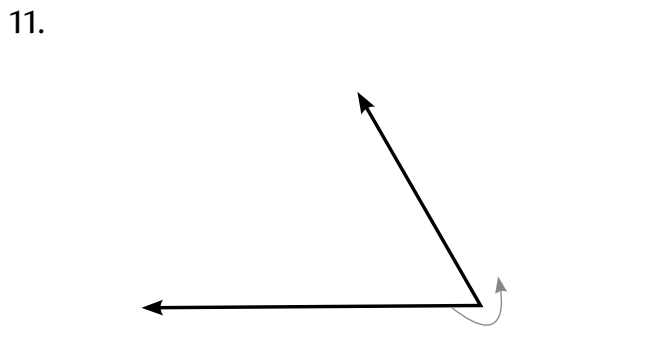
Medida: _____
Tipo de ángulo: _____



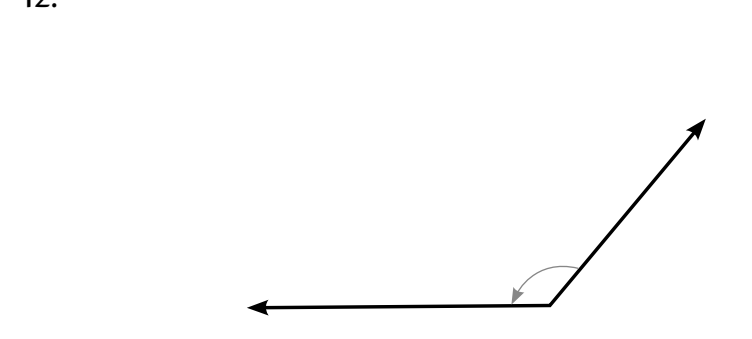
Medida: _____
Tipo de ángulo: _____



Medida: _____
Tipo de ángulo: _____



Medida: _____
Tipo de ángulo: _____



Medida: _____
Tipo de ángulo: _____