



Nombre:

Sección:

Fecha:

Taxonomía / Inteligencias múltiples
recordar / lingüístico

¿En dónde está la Tierra?

El sistema solar

1. Lee la información de los cuadros. Colorea solo los que tienen información verdadera.

El sistema solar forma parte del universo y está situado en la Vía Láctea.	El sistema solar está formado por ocho planetas que giran alrededor de la Tierra.	Los planetas que forman el sistema solar tienen órbita propia y giran alrededor del Sol.	La Tierra tarda dos años en dar una vuelta completa al Sol en el sistema solar.
--	---	--	---

2. Une los puntos y descubre a Morc y su nave. Ayúdalo a ordenar los planetas del sistema solar y así hallar la respuesta.

Para llegar al sistema solar, debo encontrar en el universo la:

				T									D				R				
4	6	2	8	-	1	7	5	4	3	6	2	-	-	1	-	6	-	3	6	2	

Júpiter

Urano


Marte

Tierra

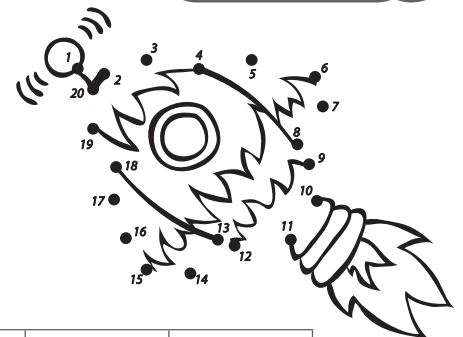
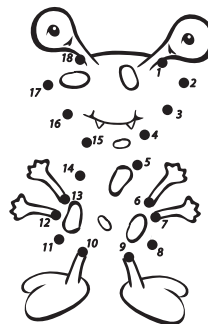
Mercurio

Neptuno

Venus



Saturno



1 = E	2 = N	3 = I	4 = C	5 = A	6 = O	7 = L	8 = S
-------	-------	-------	-------	-------	-------	-------	-------